

# Thema 2 Een bijzondere noot! huistaak

Naam: \_\_\_\_\_

Datum: \_\_\_\_\_

## Hier oefen ik op:

- het schrijven van woorden met twee medeklinkers vooraan;
- het schrijven van woorden op -ng.

## Stel, snel, spel

- Zoek in elk vak vier goede woorden.
- De woorden beginnen met het kopje dat bovenaan staat.

st-	sn-	sp-
eigen antwoord _____ _____ _____ _____ _____	_____ _____ _____ _____ _____	_____ _____ _____ _____ _____
kn-	zw-	sm-
_____ _____ _____ _____ _____	_____ _____ _____ _____ _____	_____ _____ _____ _____ _____

2

## Ik breng je de zon

- Benoem de prent.
- Schrijf het woord op.



kroon \_\_\_\_\_



slang \_\_\_\_\_



spin \_\_\_\_\_



ring \_\_\_\_\_



tang \_\_\_\_\_




pan \_\_\_\_\_



kring \_\_\_\_\_



boon \_\_\_\_\_



tien \_\_\_\_\_

Dit vindt de juf/de meester van mijn taak: \_\_\_\_\_

\_\_\_\_\_  
\_\_\_\_\_  
\_\_\_\_\_



# Even opfrissen

Naam: \_\_\_\_\_

Klas: \_\_\_\_\_ Datum: \_\_\_\_\_

## 1 Woorden vormen

- Lees de letters.
- Maak een goed woord met de letters.
- Start met de onderstreepte letter.



leuk \_\_\_\_\_



herfst \_\_\_\_\_

## 2 Nieuwe woorden puzzelen

- Lees de woorden.
- Vervang de onderstreepte letter door een andere letter.
- Schrijf het nieuwe woord op.

b <u>o</u> s	<u>o</u> os _____
z <u>u</u> cht	<u>l</u> ucht _____
bo <u>o</u> m	<u>b</u> oot _____

meerdere antwoorden  
mogelijk

## 3 Omgekeerde woorden

- Lees de woorden.
- Lees de letters in de andere richting (van rechts naar links).
- Schrijf het nieuwe woord op.

mos	<u>s</u> om _____
tak	<u>k</u> at _____
noot	<u>t</u> oon _____

### Hoe deed ik de taak?



Ik denk



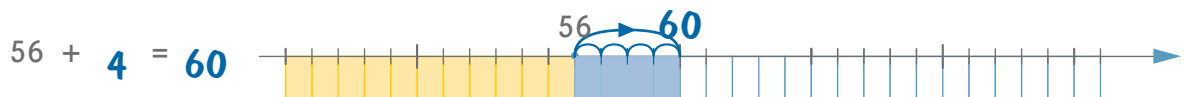
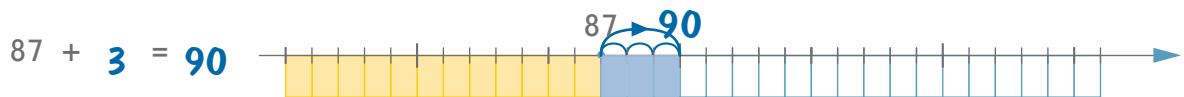
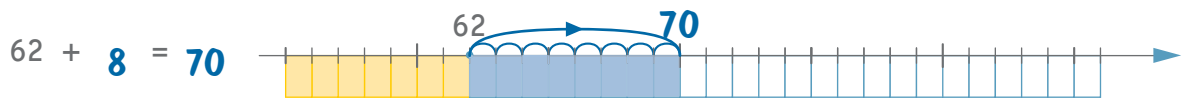
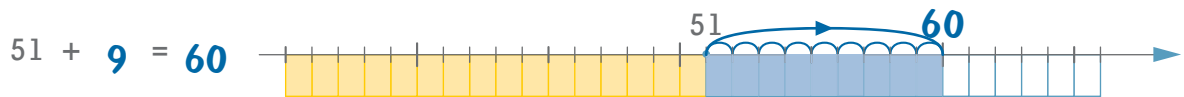
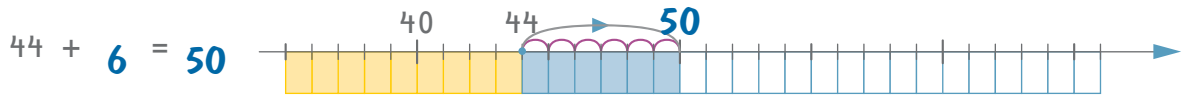
Juf/Meester vindt

1

Vul aan tot het volgende tiental.

Teken de stappen erbij met kleine boogjes en een grote boog.

Kleur de hokjes die erbij moeten blauw.



2

Speel het spel met het ganzenbord.



3

Vul aan tot het volgende tiental.

$15 + 5 = 20$	$27 + 3 = 30$	$42 + 8 = 50$
$19 + 1 = 20$	$81 + 9 = 90$	$17 + 3 = 20$
$62 + 8 = 70$	$76 + 4 = 80$	$19 + 1 = 20$
$38 + 2 = 40$	$33 + 7 = 40$	$26 + 4 = 30$
$98 + 2 = 100$	$94 + 6 = 100$	$88 + 2 = 90$
$55 + 5 = 60$	$35 + 5 = 40$	$53 + 7 = 60$
$62 + 8 = 70$	$79 + 1 = 80$	$61 + 9 = 70$
$83 + 7 = 90$	$44 + 6 = 50$	$77 + 3 = 80$
$45 + 5 = 50$	$85 + 5 = 90$	$25 + 5 = 30$
$21 + 9 = 30$	$68 + 2 = 70$	$84 + 6 = 90$

**4****Los op.**

$+ 4 \text{ is hetzelfde als } + 2 + \mathbf{2} .$

$+ 3 \text{ is hetzelfde als } + 2 + \mathbf{1} .$

$+ 8 \text{ is hetzelfde als } + 2 + \mathbf{6} .$

$+ 7 \text{ is hetzelfde als } + 1 + \mathbf{6} .$

$+ 9 \text{ is hetzelfde als } + 2 + \mathbf{7} .$

$+ 8 \text{ is hetzelfde als } + 4 + \mathbf{4} .$

$+ 5 \text{ is hetzelfde als } + 2 + \mathbf{3} .$

$+ 6 \text{ is hetzelfde als } + 2 + \mathbf{4} .$

$+ 9 \text{ is hetzelfde als } + 5 + \mathbf{4} .$

$+ 6 \text{ is hetzelfde als } + 5 + \mathbf{1} .$

$+ 5 \text{ is hetzelfde als } + 4 + \mathbf{1} .$

$+ 3 \text{ is hetzelfde als } + 1 + \mathbf{2} .$

$+ 9 \text{ is hetzelfde als } + 3 + \mathbf{6} .$

$+ 6 \text{ is hetzelfde als } + 3 + \mathbf{3} .$

$+ 8 \text{ is hetzelfde als } + 6 + \mathbf{2} .$

$+ 7 \text{ is hetzelfde als } + 5 + \mathbf{2} .$

$+ 9 \text{ is hetzelfde als } + 6 + \mathbf{3} .$

$+ 6 \text{ is hetzelfde als } + 4 + \mathbf{2} .$

$+ 9 \text{ is hetzelfde als } + 8 + \mathbf{1} .$

$+ 8 \text{ is hetzelfde als } + 3 + \mathbf{5} .$

**5****Los op! Je mag de tussenstappen opschrijven.**

$28 + 7 = \underbrace{28 + 2}_{30} + 5 = 35$

$35 + 8 = \underbrace{35 + 5}_{40} + 3 = 43$

$62 + 9 = \underbrace{62 + 8}_{70} + 1 = 71$

$59 + 3 = \underbrace{59 + 1}_{60} + 2 = 62$

$88 + 5 = \underbrace{88 + 2}_{90} + 3 = 93$

$19 + 4 = \underbrace{19 + 1}_{20} + 3 = 23$

$38 + 7 = \underbrace{38 + 2}_{40} + 5 = 45$

$55 + 9 = \underbrace{55 + 5}_{60} + 4 = 64$

$86 + 8 = \underbrace{86 + 4}_{90} + 4 = 94$

$47 + 9 = \underbrace{47 + 3}_{50} + 6 = 56$

**6****Los op!**

Op de parking staan 29 auto's.

Er komen 7 auto's bij.

Hoeveel auto's staan er nu op de parking?

Formule:  $29 + 7 = 29 + 1 + 6 = 30 + 6 = 36$

Antwoord: **Er staan nu 36 auto's op de parking.**



# Warm of koud?

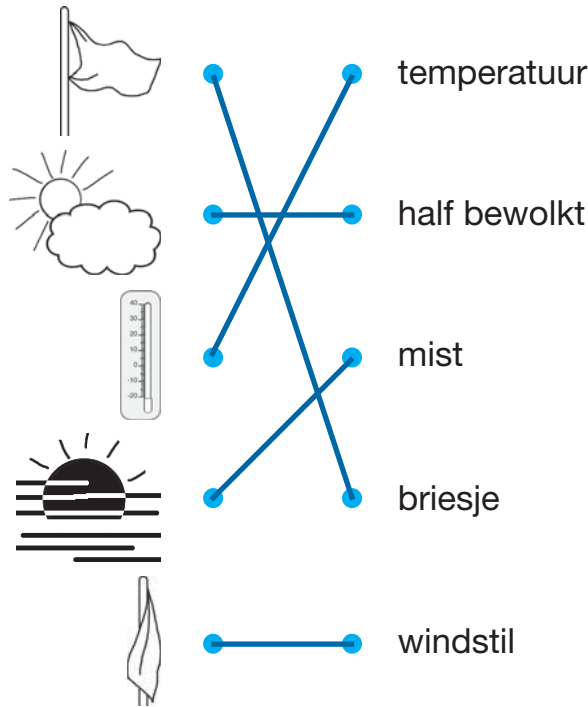
Dit kun je al

Je kunt kort iets vertellen over het weer.

Dit kun je straks

Je kunt elke dag vertellen hoe het weer is.  
Je kunt de temperatuur aflezen op een thermometer.

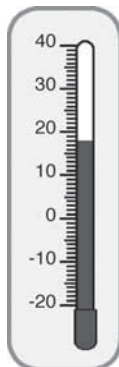
1 Verbind wat bij elkaar hoort.



2 Lees de temperatuur af of kleur de thermometer.



.....6..... °C



.....18..... °C



0 °C



2 °C onder nul



# De vier seizoenen

Dit kun je al

Je weet welke kledij bij zomer- of winterweer past.

Dit kun je straks

Je kunt vertellen wat je in de lente, de zomer, de herfst en de winter doet.


Lente, zomer, herfst of winter?  
Schrijf onder elke tekening het passende seizoen.




herfst



zomer



winter



lente




herfst



winter



zomer



lente